

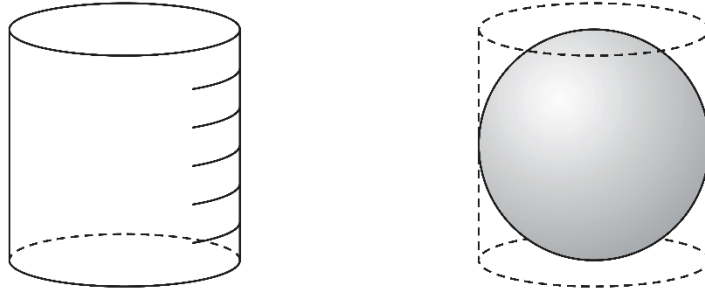
④ 1～3年

空間図形

年 組 番

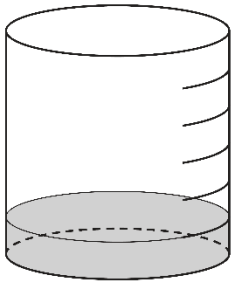
名前

下の図のように、底面の直径と高さが等しい円柱の容器と、この円柱の容器にぴったり入る球があります。この円柱の容器には、高さを6等分した目盛りがついています。

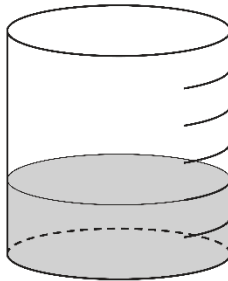


この円柱の容器に、球の体積と同じ量の水を入れます。このとき、下のアからオまでの中に、球の体積と同じ量の水を表している図があります。正しいものを1つ選びなさい。

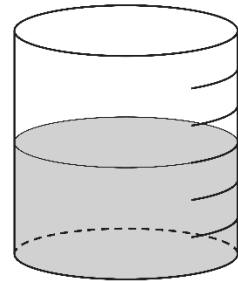
ア



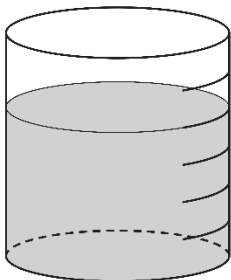
イ



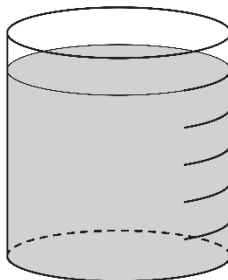
ウ



エ



オ



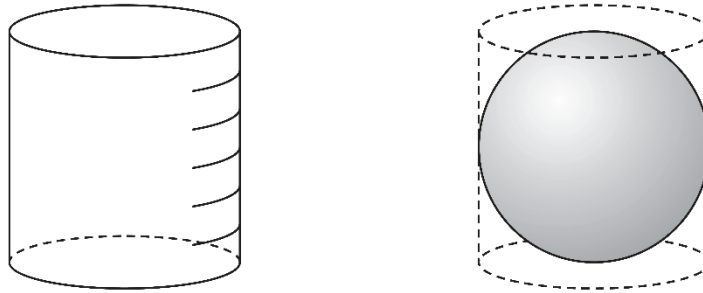
④ 1～3年

空間図形

年 組 番

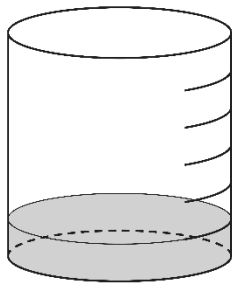
名前

下の図のように、底面の直径と高さが等しい円柱の容器と、この円柱の容器にぴったり入る球があります。この円柱の容器には、高さを6等分した目盛りがついています。

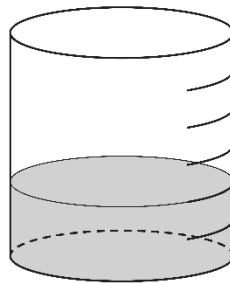


この円柱の容器に、球の体積と同じ量の水を入れます。このとき、下のアからオまでの中に、球の体積と同じ量の水を表している図があります。正しいものを1つ選びなさい。

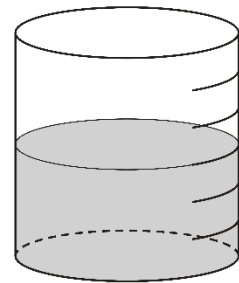
ア



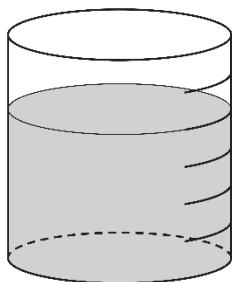
イ



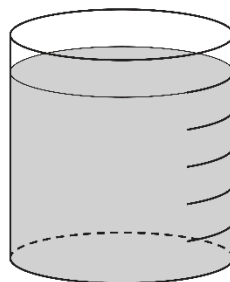
ウ



エ



オ



エ